


## Die Uhrzeit: Viertelstunde – halbe Stunde – Dreiviertelstunde


1 Eine Stunde kannst du in 4 Teile aufteilen.

a) Wie viel Zeit ist immer vergangen?


Ergänze richtig: 30, 15, 45, 60, Dreiviertelstunde, eine Stunde, halbe Stunde, Viertelstunde



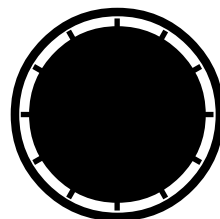
Minuten

Minuten

Minuten

Minuten


b) Wie spät ist es? Es gibt 2 Möglichkeiten.



4 Uhr

oder

\_\_\_\_\_



\_\_\_\_\_

oder


16.15 Uhr



4.30 Uhr

oder


\_\_\_\_\_



\_\_\_\_\_

oder

16.45 Uhr













5 Uhr





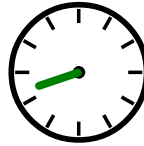
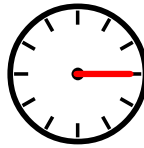


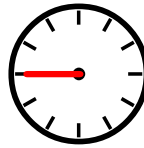






oder

\_\_\_\_\_

c) Wie spät ist es? Es gibt wieder 2 Möglichkeiten.


				
_____	_____	_____	_____	_____
oder	oder	oder	oder	oder
_____	_____	_____	_____	_____
				
_____	_____	_____	_____	_____
oder	oder	oder	oder	oder
_____	_____	_____	_____	_____

d) Zeichne ein: Minutenzeiger rot, Stundenzeiger grün! Benutze die Spieluhr!

				
4.45 Uhr	7.15 Uhr	1.30 Uhr	6 Uhr	8.15 Uhr
				
21.15 Uhr	19.30 Uhr	23 Uhr	20.45 Uhr	23.15 Uhr
				
15.30 Uhr	2.15 Uhr	5.45 Uhr	0.30 Uhr	22 Uhr

2 Die Uhrzeiten werden verschieden gesprochen.

a) Lies vor!



Es ist 9 Uhr 15.

Es ist Viertel nach neun.


Es ist viertel zehn.

Es ist 15 Minuten nach neun.



Es ist 10 Uhr 30.

Es ist halb elf.



Es ist 11 Uhr 45.

Es ist Viertel vor zwölf.

Es ist drei viertel 12.

Es ist 15 Minuten vor 12.

b) Ordne richtig zu! Wie heißt das Lösungswort?

~~halb vier~~ N

null Uhr R

viertel drei D

Viertel vor zehn U

achtzehn Uhr A









halb eins M

Viertel nach elf R

15 Minuten nach 16 Uhr H

15 Minuten vor 21 Uhr A

drei viertel zwei B



Lösungswort:

					N				
1	2	3	4	5	6	7	8	9	10

Weitere Übungen sowie die Lösungen finden Sie in der Übungsreihe **Die Uhrzeit, 2. Klasse**.

Die Inhalte dieser Übungsreihe:

1. Ganze Stunden, 4 Seiten
2. Viertelstunde – halbe Stunde – Dreiviertelstunde, 4 Seiten
3. Die Minuten, 5 Seiten
4. Die Zeitdauer erfahren (Rechnen mit Uhrzeiten) , 4 Seiten

Hinweis: Zu 1. – 4. sind bei schwierigeren Aufgaben Lösungen dabei.

5. Probearbeit mit allen Lösungen, 4 Seiten
6. Spieluhr als Bastelvorlage, 1 Seite